

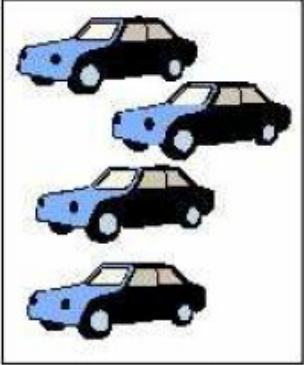



Enigme 3 : Cycle 3

1. Les jouets

Quel est le prix en euros du dernier lot ?

			
27€	24€	12€	? €

Réponse :

2. Le berger et ses moutons

Un berger a plus de 50 moutons mais moins de 100.

Un jour, il remarque que :

s'il les compte par 2, il en reste 1,

s'il les compte par 3, par 4, par 5 et par 6, il en reste toujours 1.

Combien a-t-il de moutons ?

Réponse